

Максимальный балл за работу – 37.

168


1. Выберите верные утверждения.
1. Окончание периода Античности традиционно связывают с возникновением Римской империи.
2. Выражение «перити Рубикон» принадлежит Юлию Цезарю.
3. Государственной религией Римской республики было христианство.
4. Древнегреческий философ Сократ был участником Пелопоннесской войны.
5. Город Константинополь основали греческие колонисты.
6. Родоначальником династии Каролингов был Карл Великий.
7. В результате победы Леониды в Фермопильском ущелье было основлено наступление персов на греческие земли.
8. Оптом исторической науки принято считать Геродота.


Ответ:

2, 4, 5, 1

38

2. Установите последовательность создания памятников архитектуры, представленных на иллюстрациях, в хронологическом порядке от раннего (1) к позднему (5).





Ответ: 3 1 2 5 4 6

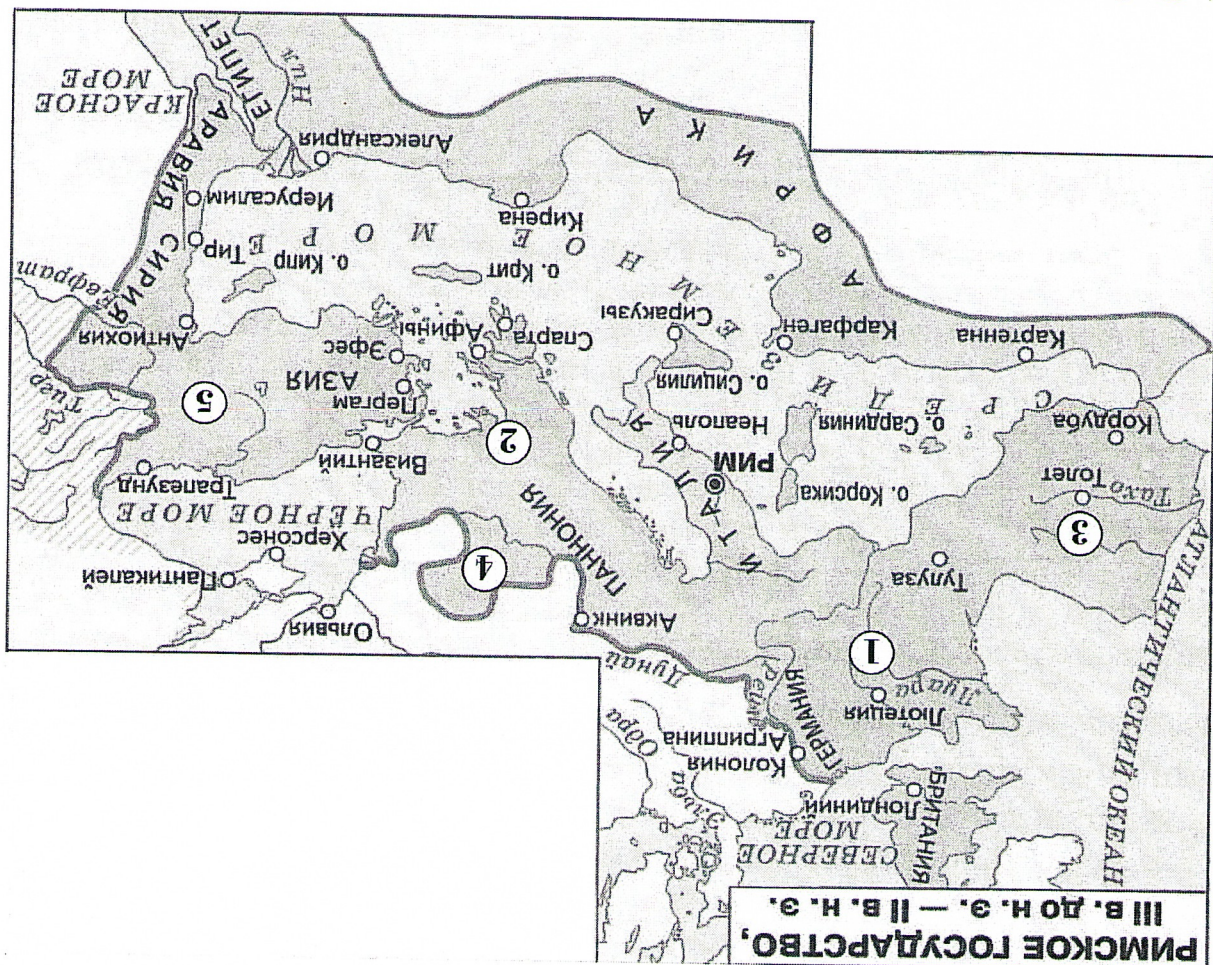
3. Установите соответствие между именами исторических деятелей и связанными с ними событиями.

1. Цинь Шихуанди	А) Создание трактата о римской истории «История»
2. Тацит	Б) Создание одного из древнейших сводов законов
3. Атила	В) Покорение Мидийского царства
4. Кир Великий	Г) Объединение Верхнего и Нижнего Египта
5. Менес	Д) Битва на Каталаунских полях
6. Хаммурапи	Е) Объединение Китая

Ответ:

1	Б
2	З
3	Г
4	Е
5	Д
6	А

4–11. Внимательно рассмотрите схему и выполните предложенные задания.



4. Выберите название государства, границы которого на схеме обозначены широкой сиреневой линией.

1. Римская республика
2. Римская империя
3. Византийская империя
4. Связанная Римская империя
5. Западная Римская империя

Ответ: 2

5. Выберите имя исторического деятеля, в период деятельности которого были завоеваны земли, обозначенные на схеме цифрой 1

1. Траян
2. Марк Аврелий
3. Юлий Цезарь
4. Константин Великий
5. Октавиан Август
6. Тибериус

16 Ответ: 3

6. Установите соответствие между цифрами, обозначающими на карте территории, входившие в состав государства, обозначенного на схеме, и их названиями.

- A. Галлия
- B. Испания
- B. Македония
- Г. Кашадоккия
- Д. Дакция

1	6				
2	2				
3	5				
4	8				
5	4				

7. Выберите верные утверждения.

1. На схеме обозначен город, который был уничтожен в результате извержения вулкана Везувия.

2. На схеме обозначен город, который был разрушен в ходе Пунических войн.

3. Все территории, обозначенные на схеме розовым цветом, входили в состав империи Александра Великого.

4. На схеме обозначен город, в котором, по легенде, началось строительство одиночной башни до небес.

5. На схеме представлены территории Мексика.

6. На схеме обозначен город, являющийся столицей современной Франции.

7. На схеме обозначен Вал Адриана.


8. Соответствующие границы государства, обозначенные на схеме, установились до восстания Спартака.

9. Ряд городов, обозначенных на схеме, был образован древнегреческими колонистами.

10. На схеме обозначен остров, на котором, по легенде, располагался лабиринт, где жил минотавр.

Ответ: 2, 3, 5, 6, 9

8. Выберите изображения, связанные с городами, обозначенными на схеме.



11. Выберите изображение памятников архитектуры, которые НЕ смог бы посетить исторический деятель, упоминающийся в тексте, даже если бы обладал неограниченными возможностями путешествия по свету.

Для последнего приезда Карла были и другие причины. Дело в том, что римляне, которые подвигли папу Льва большому насилью, принудили его молить короля о защите. Поэтому, пришедшее в полный беспорядок, он задержался там на всю зиму. Именно тогда он принял имя Императора и Августа, чего вначале совершенно не желал и утверждал, что если бы знал заранее о замысле папы, то в тот день не пошел бы в церковь, несмотря на то, что это был один из главных праздников. И с великим терпением он переносил зависать римских императоров, негодовавших на то, что он принял это звание.

Ответ: 4


10. Выберите изображение, связанное с описанной в тексте стройкой.

Император раздвинул границы державы на юг и на север. Северные кочевья племена издавна совершали набег на территории государства. Потеснив их, император приказал выстроить огромное оборонительное сооружение вдоль всей северной границы. Строили его 10 лет сотни тысяч работников, большое число которых сослали на строительство по суровым законам. Высота сооружения достигала 10 метров, ширина позволяла разъехаться двум конным повозкам.


Ответ: 8

9. Выберите изображение, связанное с историей России.

Ответ: 4, 5, 7, 8



8.



7.

Их упрство Карл поделл своим великодушнем, котрым он, несомненно, их превосходил, посылая к ним частые посольства и в письмах называя их братьями.

Ответ: 5

12–14. Прочитайте текст. Используйте информацию, содержащуюся в тексте, и собственные знания, выполните предложенные задания.

Аристократия не скрывала, что, быть может, примирится с новым законом в силу необходимости, но непрощеный законодатель не избегнет её мести. Квинт Помпей заявил, что в тот самый день, когда Тракс сложит с себя полномочия трибуна, он, Помпей, возбудит против него исследование; это было далеко не самой опасной из тех утрот, которыми осыпали Тракса враги. Тракс полагал, и, вероятно, правильно, что его жизнь угрожает опасностью, и поэтому стал появляться на форуме лишь в сопровождении свиты в 3–4 тысячи человек. По этому поводу ему пришлось выслушать в сенате резкие упрёки даже из уст Метелла, в общем сочувствовавшего реформе. Вообще если Тракс думал, что он достигнет цели с проведением аграрного закона, то теперь ему пришлось убедиться, что борьба только начинается. «Народ» обязан был ему благодарностью; но Тракса ждала неизбежная гибель, если у него не будет другой защиты, кроме этой благодарности народа, если он не сумеет остаться безусловно необходимым для народа, не будет представлять новые и более широкие требования и не свяжет таким образом со своим именем новые интересы и новые надежды.

Утверждают, что Тракс подготовил ряд других популярных законов: о сокращении срока военной службы, о расширении права протеста народных трибунов, об отмене исключительного права сенаторов на выполнение функций присяжных и даже о включении италийских союзников в число римских граждан. Трудно сказать, как далеко простирался его план. Достоверно известно лишь следующее: в своём вторичном избрании на охраняющую его должность трибуна он видел единственное средство спасти свою жизнь и, чтобы добиться этого противозаконного продления своих полномочий, обещал народу дальнейшие реформы. Если сначала он рисковал собой для спасения государства, то теперь ему приходилось для своего собственного спасения ставить на карту благодарные республики. Трибуны собирались для избрания трибунов на следующий год, и первые голоса были поданы за Тракса. Но противная партия опротестовала выборы и добилась по крайней мере того, что собрание было распущено и решение было отложено до следующего дня.

12. Какова была причина столь ожесточённой борьбы противников Царства против избрания его трибуном?

1. У Царства было 3–4 тысячи человек святы, а потому он не нуждался в охране.
2. Народ был недоволен реформами Царства.
3. Статус трибуна гарантировал Царству защиту от любых преследований.
4. Выборы в народные трибуны были проведены в нарушение существующих правил.

Ответ:

08

13. Выберите верные утверждения.
1. Согласно тексту, Царство опасался за свою жизнь.
2. Согласно тексту, Метеллы были старым противником Царства.
3. В тексте указывается на готовность сына Царства продолжить политику отца.
4. В тексте упоминается не менее двух реформ, проведённых Царством.
5. В тексте упоминается название должностного лица, избравшегося из числа плебеев.
6. В тексте говорится о том, как Царство одержал победу на выборах в трибуны.
7. Автор текста утверждает, что благодаря своим качествам Царство не имели врагов.

Ответ:

2, 4, 5, 6, 7

14. Выберите реформы, реализованные или запланированные Царском.

1. Земельная реформа
2. Военная реформа
3. Судебная реформа
4. Крестьянская реформа
5. Образовательная реформа
6. Денежная реформа

Ответ:

2

15